



ŞİRT İL MİLLÎ EĞİTİM MÜDÜRLÜĞÜ

2021

# İLKOKUL

01 - 05 MART

# 2

ÖDEU TAKİP SİSTEMİ

## MİNİK YAĞMUR TANESİ



Gökyüzünde sırasını bekleyen bulutların bir tanesinde şaşkın ve heyecanlı bir yağmur tanesi varmış.

Heyecanlıymış çünkü bu onun ilk yolculuğuymuş. Birazdan gök gürleyecek ve yağmur bulutları minik yağmur tanesi ve arkadaşlarını yeryüzüne gönderecekmış.

Minik yağmur tanesinin heyecanını gören tecrübeli bir damla “Korkma” demiş. Bizler ölümsüzüz. Sanma ki yere düşünce yolculuğun son bulacak. Toprağa karışsan da, bir göle veya dereye düşsen de ölmeyeceksin. Sadece zamanını bekleyeceksin. Güneş seni buharlaştıracak ve gökyüzüne yani evine geri döneceksin. Sonra bir bulutta diğer kardeşlerinle buluşacaksın ve tekrar yağmur olarak yeryüzüne dönmeyi bekleyeceksin.

Tecrübeli damlanın anlattıkları bizim minik yağmur damlasının içini biraz rahatlatmış. Sonra gök gürlemeye başlamış. Bulutlarda bir hareketlilik başlamış. Tüm bulutlar yavaşça yağmur damlalarını, yolculuklarına doğru uğurlamaya başlamış. Sıra bizim minik yağmur damlasına gelmiş. Gözlerini kapamış ve kendini aşağı bırakmış. Gideceği yeri hayal etmeye başlamış.



Gözlerini tekrar açtığı anda yanibaşında tecrübeli damlayı görmüş. İçi biraz rahatlamış. Birlikte aşağı doğru süzölmüşler. Manzaranın tadını çıkaran minik damla artık korkmuyormuş. Güzel bir köyde bir çiçek bahçesinin üstüne düşüvermişler.

Mis gibi kokan çiçekler minik damlayı ve kardeşlerini sevinçle karşılamışlar. Yavaşça toprağa karışan yağmur damlaları, yolculuklarına bir ara vererek, Güneş'in tekrar onları buharlaştırarak evlerine götürmesini beklemeye başlamışlar.



## SORULAR

1) Minik yağmur damlası nerede bekliyormuş?

.....

2) Minik yağmur damlası ne bekliyormuş?

.....

3) Minik yağmur damlası beklerken hangi duygular içindeymiş?

.....

4) Minik yağmur damlasını kim teselli etmiş?

.....

5) Yağmur damlaları niçin ölümsüzmüş?

.....

6) Sırası gelen minik yağmur damlası ne yapmış?

.....

7) Aşağıya doğru süzülen yağmur damlası yanında kimi görmüş?

.....

8) Minik yağmur damlası ve kardeşleri nereye düşmüş?

.....

9) Çiçekler yağmur damlalarını nasıl karşılamış?

.....

10) Yağmur yağınca ne hissediyorsun?

.....

Aşağıdaki cümlelerde ( ) içine uygun noktalama işaretlerini koyunuz.

- a. Yarın nereye gideceksin( )
- b. Pazardan elma( ) armut( ) ve karpuz aldık( )
- c. Yaşasın( ) yarın bayram( )
- ç. Ayşe( )nin de gelmesini çok isterdim( )
- d. Beni görüyor musun( )
- e. Okulumuz yakında açılak( )
- f. Eyvah( ) Kardeşim düştü( )
- g. Ankara( )nın kokareci meşhurdur( )
- ğ. Ahmet( )in yeni aldığı kıyafetleri gördün mü( )
- h. Ağaçları seviyor musun( )
- ı. Baban nereden geliyor( )
- i. Yaşasın( ) yarışmayı ben kazandım( )
- j. Ablam Diyarbakır( )da okuyor( )
- k. Büyünce öğretmen olmak istiyorum( )
- l. Parkta Nilda( ) Esmâ( ) ve Berat ile oynadık( )
- m. Kırtasiyeden silgi( ) kalem( ) cetvel ve defter aldım( )
- n. Sağlığımıza dikkat etmeliyiz( )
- o. Kitap en iyi arkadaşdır( )
- ö. Yarın Caner( )i kaçta ziyaret edelim( )

Aşağıdaki verilen kelimelerin eş anlamlısını işaretleyelim.

ihtiyar

genç

yaşlı

al

kırmızı

beyaz

uzak

yakın

ırak

aş

yemek

aşı

yıl

sene

hafta

cevap

soru

yanıt

nasihat

öğüt

sağlık

giysi

elbise

mont

lider

öğretmen

önder

vatan

yurt

millet

kalp

yürek

organ

lisan

dil

ayak

yaşam

hayat

yıl

zaman

vakit

yıl

öğrenci

yakın

talebe

baş

kafa

gövde

vazife

okul

görev

sonbahar

mevsim

güz

doktor

hekim

hemşire

tabiat

çevre

doğa

1. Aşağıdaki toplama işlemlerinden hangisinin sonucu yanlıştır?

- A)  $45 + 37 = 82$   
 B)  $54 + 19 = 63$   
 C)  $13 + 12 + 9 = 34$

2. Aşağıdaki zihinden toplama işlemi yapan biri hangi sayıları topluyor?

$$\begin{array}{r} \text{Onluklar } 50 + 30 = 80 \\ \text{Birlikler } 4 + 2 = 6 \\ \hline 86 \end{array}$$

- A)  $50 + 6$   
 B)  $4 + 80$   
 C)  $54 + 32$

3. Aşağıdaki eşitlikte “” yerine hangi sayı yazılmalıdır?

$$14 + \square = 26 - 5$$

- A) 7  
 B) 21  
 C) 14

4. Yasin'in 3 düzine armudu, 1 deste elması vardı. Yasin evine gelen misafirleri ile meyvelerin 27 tanesini yedi. Geriye kaç meyve kaldı?

- A) 13  
 B) 9  
 C) 19

5.  $44 - \blacktriangle = 25$   
 $17 + \bullet = 39$




Yukarıdaki işlemlere göre  $\blacktriangle + \bullet$  işleminin sonucu kaçtır?

- A) 36  
 B) 41  
 C) 47

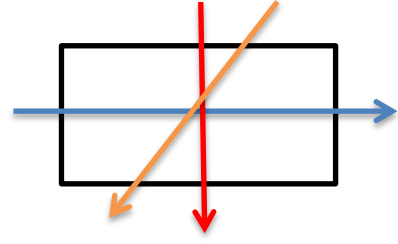
6. Aşağıdaki harflerden hangisi iki eş parçaya ayrılabilir?

- A) H  
 B) S  
 C) F

7. Aşağıdaki eşleştirmelerden hangisi yanlıştır?




- A)  → Dikdörtgen
- B)  → Kare
- C)  → Çember

8. hangi renk çizgi dikdörtgeni iki eş parçaya ayırmaz?



- A) Mavi
- B) Kırmızı
- C) Kahverengi

9. Aşağıdaki görsellerden hangisi üçgen prizmaya örnektir?

- A) 
- B) 
- C) 

10. 87 sayfalık kitabın önce 17 sayfasını sonra 36 sayfasını okudum. Kitabın bitmesi için kaç sayfa daha kitap okumam gerekiyor?

- A) 70
- B) 34
- C) 51

11. Aşağıdaki toplama işleminin sonucu kaçtır?

- A) 73
- B) 63
- C) 83

$$\begin{array}{r} 25 \\ 07 \\ 27 \\ + 14 \\ \hline \dots \end{array}$$

12. Aşağıdaki ölçü birimlerinden hangisi ile sıvı olan maddeleri ölçeriz?


- A) Metre
- B) Litre
- C) Kilogram

13. Aşağıdaki sürahi 3 bardak su ile doluyor. 3 fincan su ile bardak dolmaktadır. Sürahiyi fincan ile doldurmayı düşünen Sümeyye'nin bu iş için kaç fincan suya ihtiyacı vardır?



- A) 3
- B) 6
- C) 9

14. Yukarıdaki cisimler ile edilecek geometrik cisim hangi seçenekte doğru olarak verilmiştir?



- A) Küp
- B) Kare Prizma
- C) Kare

15. Mert 8 yaşında ağabeyi Efe Mert'ten 3 yaş büyüktür. Buna göre Mert ve ağabeyinin yaşları toplamı kaçtır?



- A) 19
- B) 17
- C) 11

16. Aşağıdaki ifadelerde doğru olanlara (D), yanlış olanlara (Y) yazılırsa "Doğru-Yanlış" sıralaması nasıl olur?

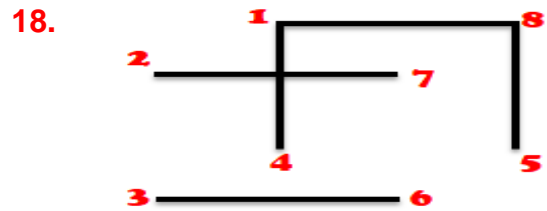
- ( ) iki basamaklı en büyük sayı 90'dır.
- ( ) 67 sayısında 6 rakamının basamak değeri 60'tır.

- A) Y – D
- B) D – D
- C) D – Y



17. Yukarıdaki resme göre Aslı saat yönünde çeyrek tur dönerse hangi nesneyi görür.

- A) Bisiklet
- B) Televizyon
- C) Sandalye



Yukarıdaki numaralı yerler sırasıyla birleştirildiğinde hangi şekil ortaya çıkar.

- A) Küp
- B) Üçgen Prizma
- C) Dikdörtgen



19. Serhat'ın 4 düzine kalemi var. Serhat 1 deste kalemını kardeşi Melike'ye veriyor. Buna göre Serhat'ın kaç kalemi kalır?

**Çözüm:**

20. Ali'ye babası 35 TL, annesi 26 TL harçlık veriyor. Ali yandaki oyuncak arabayı alıyor. Ali'nin geriye kaç TL'si kalır?



**Çözüm:**

## HAYAT BİLGİSİ

## SAĞLIĞIMIZ İÇİN ÇALIŞANLAR

**Hastaneler,** muayene ve tedavi olmak için gittiğimiz sağlık kurumlarıdır. Hastaneler, sağlık hizmeti veren en büyük sağlık kurumlarıdır. Hastanelerde doktorlar, hemşireler ve diş hekimleri gibi sağlık görevlileri çalışır.

**Aile sağlığı merkezleri,** sağlığımızı korumak için çalışan sağlık kurumlarından. Bulaşıcı hastalıklardan korunmak için aşı oluyoruz. Aile sağlığı merkezlerinde doktorlar, hemşireler ve diş hekimleri görev yapar. Aile sağlığı merkezinde çalışan sağlık görevlileri, çocukların aşılarının yapılması, hastaların muayene edilmesi gibi sağlık hizmetlerinin yürütülmesini sağlarlar. Muayene ve tedavi olmak için aile sağlığı merkezlerine gideriz.

**Doktorlar,** hastaları muayene ederler. Hastaların iyileşmeleri için gerekli ilaçları reçeteye yazarlar.

**Hemşireler,** hastaların muayenesinde ve tedavisinde doktorlara yardımcı olurlar.

**Diş hekimleri,** dişlerimizin kontrol ve tedavisini yaparlar.

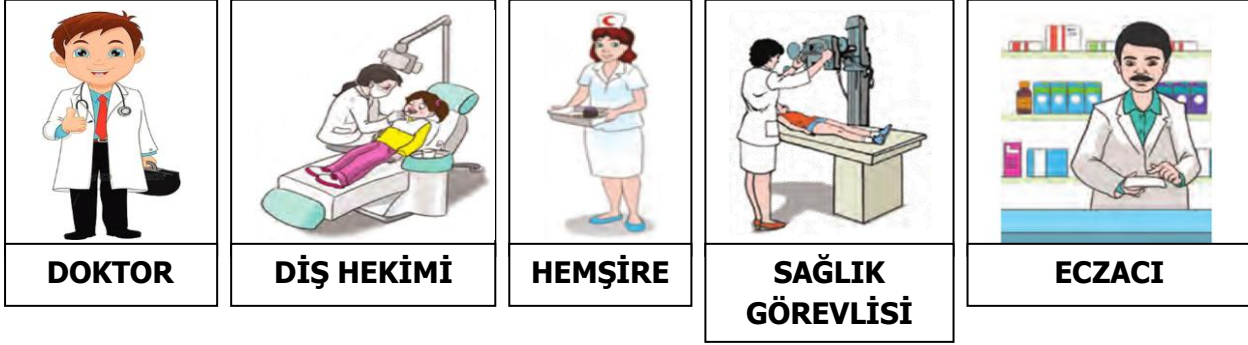
**Sağlık görevlileri(Röntgen ve laboratuvar çalışanları):** Doktorların hastalığımızın ne olduğunu bulmak için istedikleri kan ve idrar tahlilleri ile röntgen çekimi gibi kontrolleri yaparlar.

**Eczacılar,** eczanelerde ilaçlarımızı veren yetkili kişilerdir. Doktorların yazdığı reçetede ilaçları eczanelerden alırız.

♣ Sağlığımızla ilgili kuruluşların aşağıda sembolleri verilmiştir.



Sağlığımız için çalışanlara ait görseller aşağıda verilmiştir.



Aşağıda verilen sağlığımız için çalışanları görevleriyle eşleştiriniz.

**DOKTOR**

Hastaların muayenesinde ve tedavisinde doktorlara yardımcı olurlar.

**DİŞ HEKİMİ**

Eczanelerde doktorun reçeteye yazdığı ilaçları veren yetkili kişidir.

**HEMŞİRE**

Dişlerimizin kontrol ve tedavisini yaparlar.

**SAĞLIK GÖREVLİSİ**

Doktorların hastalığımızın ne olduğunu bulmak için istedikleri kan ve idrar tahlilleri ile röntgen çekimi gibi kontrolleri yaparlar.

**ECZACI**

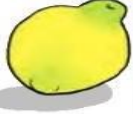







## HAYAT BİLGİSİ

## MEVSİM MEYVELERİ VE SEBZELERİ

Her sebze ve meyve farklı hava koşullarında yetişir. Kışın, seralarda yetiştirilen yaz sebze ve meyvelerini de pazarda görüyoruz. Ancak sağlıklı olan, sebze ve meyveleri, yetiştiği mevsimde tüketmemizdir.

Sonbahar geldi, hava soğumaya başladı. Sağlığımız için vücudumuzu kış mevsimine hazırlayacak sebze ve meyveler tüketmeliyiz.

## SONBAHAR MEYVELERİ








|   |   |   |   |   |  |   |   |
|---|---|---|---|---|--|---|---|
|  |  |  |  |  |  |  |  |
| ayva  | nar   | elma  | armut   | incir   | mandalina  | üzüm  | kestane   |

## SONBAHAR SEBZELERİ

|   |   |   |   |   |  |   |   |
|---|---|---|---|---|--|---|---|
|  |  |  |  |  |  |  |  |
| domates   | patlıcan  | pirasa  | kereviz   | havuç   | kamabakar  | ispanak   | lahana  |

Kış geldi, hava iyice soğudu. Vücudumuzu ısıtacak, hastalıklardan korunmamızı sağlayacak mevsim sebze ve meyvelerine ihtiyacımız var.

## KIŞ MEYVELERİ

|   |   |   |   |  |   |   |
|---|---|---|---|--|---|---|
|  |  |  |  |  |  |  |
| elma  | mandalina   | portakal  | greyfurt  | nar  | kivi  | kestane   |

## KIŞ SEBZELERİ









|   |   |   |   |  |   |   |   |
|---|---|---|---|--|---|---|---|
|  |  |  |  |  |  |  |  |
| <b>pazı</b>   | <b>ıspanak</b>  | <b>havuç</b>  | <b>kereviz</b>  | <b>turp</b>  | <b>lahana</b>   | <b>brokoli</b>  | <b>bal kabağı</b>   |

İlkbahar geldi, hava ısınmaya başladı. Yorgunluk, hâlsizlik gibi sağlık sorunları yaşamamak için mevsim sebze ve meyvelerini tüketmeliyiz.

## İLKBAHAR MEYVELERİ

|   |   |   |   |  |   |   |
|---|---|---|---|--|---|---|
|  |  |  |  |  |  |  |
| <b>elma</b>   | <b>limon</b>  | <b>çilek</b>  | <b>çağla</b>  | <b>erik</b>  | <b>dut</b>  | <b>kiraz</b>  |

## İLKBAHAR SEBZELERİ

|   |   |   |   |   |  |   |   |
|---|---|---|---|---|--|---|---|
|  |  |  |  |  |  |  |  |
| <b>havuç</b>  | <b>enginar</b>  | <b>bakla</b>  | <b>patlıcan</b>   | <b>kabak</b>  | <b>barbunya</b>  | <b>domates</b>  | <b>bezelye</b>  |










## HAYAT BİLGİSİ

Yaz geldi, hava iyice ısındı. Mevsim sebze ve meyvelerini tüketmemiz vücudumuzun su ihtiyacını karşılamamıza yardımcı olacaktır.

### YAZ MEYVELERİ

|   |   |   |   |   |  |   |   |   |
|---|---|---|---|---|--|---|---|---|
|  |  |  |  |  |  |  |  |  |
| <b>kiraz</b>  | <b>kayısı</b>   | <b>erik</b>   | <b>kavun</b>  | <b>karpuz</b>   | <b>üzüm</b>  | <b>dut</b>  | <b>incir</b>  | <b>şeftali</b>  |

### YAZ SEBZELERİ

|  |  |  |  |   |   |   |  |  |
|--|--|--|--|---|---|---|--|--|
|  |  |  |  |  |  |  |  |  |
| <b>patlıcan</b>  | <b>taze fasulye</b>  | <b>kırmızı biber</b>   | <b>dolmalık biber</b>  | <b>bamya</b>  | <b>mısır</b>  | <b>kabak</b>  | <b>salatalık</b>   | <b>domates</b>   |

Seralarda yetiştirilen sebze ve meyveler yerine bunları mevsiminde satın almalıyız. Kurutarak, dondurarak veya konserve, salça, tarhana, reçel, turşu yaparak diğer mevsimlerde de tüketebiliriz. Böylece daha sağlıklı besleniriz. Üstelik mevsiminde aldığımız sebze ve meyveler daha ucuz oluyor.

**Aşağıdaki ifadelerden doğru olanların başına “ D “,yanlış olanların başına ise “ Y ” yazınız.**

- ( ) Havuç, lahana, turp kış mevsimi sebzeleridir.
- ( ) Seralarda yetişen sebze ve meyveler çok sağlıklıdır.
- ( ) Havaların iyice ısındığı yaz mevsiminde vücudun kaybettiği su ihtiyacını karşılayan meyveler tüketmeliyiz.
- ( ) Seralarda yetiştirilen sebze ve meyveler yerine bunları mevsiminde satın almalıyız.
- ( ) Seralardan aldığımız sebze ve meyveler ucuz oluyor.
- ( ) Kivi, portakal, greyfurt ilkbahar mevsimi meyveleridir.
- ( ) Elma ve nar hem sonbahar hem de kış meyvesidir.

**Aşağıdaki ifadelerde boş bırakılan noktalı yerleri uygun sözcüklerle doldurunuz.**

patlıcan

mevsimlerde

seralarda

kabak

ilkbahar

mevsiminde

● Sebze ve meyveleri kurutarak, dondurarak veya konserve, salça, tarhana, reçel, turşu yaparak diğer ..... de tüketebiliriz.

● ..... ve ..... hem ilkbahar hem de yaz mevsimi sebzeleridir.

● Erik, çayla ve çilek.....mevsimi meyveleridir.

● Sağlıklı olanı .....yetişen değil, yetişen sebze ve meyveleri tüketmektir.

## HAYAT BİLGİSİ

## DEĞERLENDİRME SORULARI

1) Aşağıdakilerden hangisi sağlıkla ilgili kurumlardan biri değildir?

- A) Hastane                      B) Otel                      C) Eczane

2) Doktorun belirlediği tedaviyi uygulamak, hastanın bakımını yapmakla görevli sağlık çalışanı aşağıdakilerden hangisidir?

- A) Eczacı                      B) Diş hekimi                      C) Hemşire

3) “ Doktorlar hastaların iyileşmeleri için gerekli ilaçları ..... yazarlar. ”

Yukarıdaki ifadeye noktalı aşağıdaki sözcüklerden hangisinin gelmesi uygundur?

- A) kâğıda                      B) reçeteye                      C) kitaba

4) Aşağıdaki açıklamalardan hangisi doğrudur?

A)Konserve, salça, turşu gibi besinler sağlığa zararlıdır.

B)Seralarda yetiştirilen sebze ve meyveler daha lezzetlidir ve vücudumuz için daha yararlıdır.

C)Mevsimine uygun sebze ve meyveler kurutularak diğer mevsimlerde tüketilebilir.

5)Turp, pırasa, ıspanak gibi sebzeler daha çok hangi mevsimde tüketilir?

- A) İlkbahar                      B) Yaz                      C) Sonbahar



Değerli öğrencim, yeniden merhaba😊

Güzel ve verimli bir yarı yıl tatilinden sonra, dinlemiş olarak okullarımıza kavuşuyoruz. Öncelikle haftada iki gün yüz yüze eğitime başlıyoruz, hepimiz okullarımızı, sınıflarımızı çok özledik değil mi? Eeeet dediğinizi duyar gibiyim.

Yeniden Yüz yüze eğitime başlıyor ve sınıflarımızda ders işlemeye başlıyoruz, Peki Koronavirüs salgını sona erdi mi? Maalesef henüz koronavirüs salgını devam etmektedir, bu sebeple okullarımızda, sınıflarda, okul bahçelerinde Maske-Mesafe ve Temizlik kurallarına uymaya devam edeceğiz, bu konularda okullarımız ve öğretmenlerimiz gerekli hazırlıkları tamamladılar, hep beraber bu kurallara uymaya çalışacağız, unutmayın bu süreçte hepimiz birbirimizin sağlığından sorumluyuz.



Yüz yüze eğitime başlıyoruz, Peki uzaktan eğitim bitti mi? Hayır, haftada iki gün okula giderken, bunun dışında kalan vakitlerimizde uzaktan eğitime katılmaya, EBA ve TRT Okul kanalarından faydalanmaya devam edeceğiz. Haydi, önümüzdeki süreçte uzaktan eğitimle nasıl daha verimli çalışacağımızı tekrar hatırlayalım.



**İpucu !**  
Bu şekilde yaparsanız dikkatiniz dağılmaz

## EVDE DERS ÇALIŞMA ORTAMI

1-Kendinize evde ısı ve ışık düzeyi iyi ayarlanmış sessiz ve ferah bir ortam ayarlayın.

Windows'u Etkinleştir  
Windows'u etkinleştirme için Ayarlar'a gidin.

2-Canlı dersi takip ettiğiniz cihazınızı çalışma masanızın üstüne koyun ve aranızdaki mesafeyi ayarlayın.

Şayet, canlı dersi EBA TV den takip ediyorsanız; çalışma masanızı televizyonun önüne kurarak, öğretmeni sınıfta dinliyormuş gibi bir hava yaratabilirsiniz.



3-Kahvaltınızı ve diğer yemek öğünlerini aksatmayın.

**İpucu**  
Bu sizi zinde tutar !



**X**  
Bu sizin dikkatinizi dağıtır.

4-Ders dinlerken bir şeyler atıştırmayın.

**5-Ders başlamadan hazırlığınızı tamamlayın.**

**İpucu**  
(Kalem, silgi, defter, kitap vb.)



**9-Ders aralarında temiz hava alın.**



Temel ihtiyaçlarınızı giderin (Yeme, içme, tuvalet vb.)

10-Çözemediğiniz soruları öğretmenlerinize ya da arkadaşlarınıza mutlaka çözdürün.

12-Geri kalan vakitlerinizi teknolojiden uzak, ailenizle ya da kitap okuyarak geçirmeniz sizin için yararlı olacaktır.

11-Bir konuyu bitirdikten sonra mutlaka konu ile ilgili test çözün. Yanlış sayınız çoksa konuyu tekrar gözden geçirin. Çünkü bu sizin konuyu tam anlamadığınızı gösterir.

13-Dersinizin olmadığı saatlerde size ayrılan zamanlarda maskenizi takarak ve sosyal mesafe kurallarına uyarak dışarı çıkabilirsiniz.

## CEVAP ANAHTARI

### Matematik Cevap Anahtarı

|   |   |   |   |   |   |   |   |   |    |    |    |    |    |    |    |    |    |    |    |
|---|---|---|---|---|---|---|---|---|----|----|----|----|----|----|----|----|----|----|----|
| 1 | 2 | 3 | 4 | 5 | 6 | 7 | 8 | 9 | 10 | 11 | 12 | 13 | 14 | 15 | 16 | 17 | 18 | 19 | 20 |
| B | C | A | C | B | A | C | C | B | B  | A  | B  | C  | B  | A  | A  | C  | A  | 38 | 23 |

### Hayat Bilgisi Cevap Anahtarı

|   |   |
|---|---|
| 1 | B |
| 2 | C |
| 3 | B |
| 4 | C |
| 5 | A |